


Exercice 1 :

Sur le graphique ci-contre, place les points dont voici les coordonnées :

- | | |
|-----------|-----------|
| A (-7,2) | B (-5,5) |
| C (-4,5) | D (-1,1) |
| E (4,1) | F (5,4) |
| G (6,1) | H (6,-5) |
| I (5,-5) | J (4,-3) |
| K (-2,-3) | L (-3,-5) |
| M (-4,-5) | N (-4,-3) |
| O (-5,2) | P (-6,0) |
| Q (-5,6) | R (-5,3) |




Trace le polygone : *ABCDEFGHIHKLMNOP*.
Trace les segments *[BQ]* et *[QC]*.

Exercice 2 :

Sur le graphique ci-contre, place les points dont voici les coordonnées :

- | | |
|-----------|----------|
| A (-5,-1) | B (8,-1) |
| C (9,0) | D (-6,0) |
| E (-4,0) | F (7,0) |
| G (6,1) | H (-3,1) |
| I (-2,1) | J (0,1) |
| K (0,2) | L (-1,2) |
| M (3,1) | N (5,1) |
| P (5,2) | Q (4,2) |




Trace les polygones *ABCD*, *EHGF*, *ILKJ* et *MQPN*.

Exercice 3 :

Sur le graphique ci-contre, place les points dont voici les coordonnées :

- | | |
|----------|-----------|
| A (6,13) | B (12,13) |
| C (9,10) | D (12,7) |
| E (12,1) | F (9,4) |
| G (6,1) | H (0,1) |
| I (6,7) | |




Trace le polygone *ABCDEFGHI*.

Exercice 4 :

Sur le graphique ci-contre, place les points dont voici les coordonnées :

A (5,6) B (6,5) C (6,-6)
 D (5,-6) E (5,1) F (-5,1)
 G (-5,-6) H (-6,-6) I (-6,6)
 J (-4,6) K (-4,2) L (3,2)
 M (3,6) N (1,5) P (2,5)
 Q (2,3) R (1,3)




Trace les polygones ABCHI, DEFG, JKLM et NPQR.

Exercice 5 :

Sur le graphique ci-contre, place les points dont voici les coordonnées :

A (8,0)
 B (8,1)
 C (9,3)
 D (11,4)
 E (13,4)
 F (12,2)
 G (10,1)
 H (8,3)
 I (7,5)
 J (5,6)
 K (3,6)
 L (4,4)
 M (6,3)
 N (8,8)
 P (10,10)
 Q (12,11)
 R (14,10)
 S (12,9)
 T (9,12)
 U (10,14)
 V (11,12)
 W (11,8)
 X (10,6)
 Y (9,8)
 Z (8,11)
 A' (6,10)
 B' (8,9)




Trace la ligne reliant tous ces points : ABCDEFGHBHIJKLMHNPQRSPTUVPWXYZA'B'PA

Exercice 6 :

Sur le graphique ci-contre, place les points dont voici les coordonnées :

- A (-4,-8)
- B (-2,-8)
- C (3,-8)
- D (5,-8)
- E (-2,-4)
- F (3,-4)
- G (-1,0)
- H (2,0)
- I (0,12)
- J (1,12)
- K (-1,-6)
- L (0,-5)
- M (1,-5)
- N (2,-6)
- P (0,5;13)




Trace les segments : [AB], [CD], [EF], [GH], [IJ], [IP], [PJ], [AE], [EG], [GI], [JH], [HF], [FD], [CN], [NM], [ML], [LK], [KB]

Exercice 7 :

Sur le graphique ci-contre, place les points dont voici les coordonnées :

- A (-4.7,5.3)
- B (-0.5,7.1)
- C (1.3,7.3)
- D (3,3.2)
- E (-0.8,0.8)
- F (0.1,1.3)
- G (0.3,0.8)
- H (1.2,0.5)
- I (0,0)
- J (-1.7,-2.5)
- K (-2.5,-4.8)
- L (0.5,-5)
- M (1.7,-4.3)
- N (1.3,-2.7)
- P (2.3,-0.8)
- Q (3.4,-0.7)
- R (3.6,-0.5)
- S (3.8,0.8)
- T (4.4,1.1)
- U (3.3,2.1)
- V (3.3,2.6)
- W (2.5,1.8)
- X (2.9,1.9)



Trace le polygone ABCDE.

Trace les segments : [FG], [GH], [EI], [IJ], [JK], [KL], [LM], [MN], [NP], [PQ], [QR], [RS], [ST], [TU], [UV], [VD], [WX].